


1. vypočítej následující příklady:

Paní prodavačka navázila do sáčků 5 kg, 3 kg a 2 kg pomerančů.  
Kolik kilogramů pomerančů je to celkem?




Znázorni:

Vypočítej:

Napiš odpověď:

V bedně bylo 15 kg jablek. Pan prodavač 2 kg jablek prodal.  
Kolik kilogramů jablek zbylo v bedně?



Znázorni:

Vypočítej:

Napiš odpověď:

Dokresli  tak, aby v každém řádku bylo o 3 více.



	$7 + 3 =$

Procvičuj.



13 kg + 7 kg  
16 kg – 4 kg  
20 kg – 5 kg  
14 kg – 4 kg  
18 kg + 2 kg

Škrtni  tak, aby v každém řádku bylo o 2 méně.



	$17 - 2 =$

Opakuj.



12 kg + 6 kg  
19 kg – 7 kg  
11 kg – 1 kg  
16 kg + 3 kg  
14 kg + 4 kg

V ohradě se páslo 6 ovcí a 10 jehňátek. Kolik je to celkem?



Znázorni:

Vypočítej:


Napiš odpověď:



Na zahradě rozkvetlo 11 červených tulipánů. Žlutých tulipánů rozkvetlo o 5 více. Kolik žlutých tulipánů tam kvete?

Žlutých o 5 více, musíme...

Znázorni: červených: \_\_\_\_\_  
 žlutých: \_\_\_\_\_



Vypočítej:

Napiš odpověď:

Lukáš má doma 19 knih. Pavel má o 7 knih méně.

Kolik knih má Pavel?

Pavel má o 7 méně, musíme...

Znázorni: Lukáš: \_\_\_\_\_  
 Pavel: \_\_\_\_\_



Vypočítej:

Napiš odpověď:

Vypočítej.

5 Procvičuj.

$15\text{ l} + 4\text{ l} =$	$16\text{ kg} + 3\text{ kg} =$	$13\text{ m} + 3\text{ m} =$	$20\text{ kg} - 5\text{ kg}$
$12\text{ l} + 7\text{ l} =$	$12\text{ kg} + 6\text{ kg} =$	$11\text{ m} + 7\text{ m} =$	$17\text{ kg} - 7\text{ kg}$
$14\text{ l} + 4\text{ l} =$	$17\text{ kg} + 2\text{ kg} =$	$16\text{ m} + 4\text{ m} =$	$14\text{ kg} + 6\text{ kg}$
$20\text{ l} - 8\text{ l} =$	$18\text{ kg} - 8\text{ kg} =$	$17\text{ m} - 6\text{ m} =$	$11\text{ kg} + 7\text{ kg}$
$17\text{ l} - 2\text{ l} =$	$14\text{ kg} - 2\text{ kg} =$	$19\text{ m} - 4\text{ m} =$	$19\text{ kg} - 3\text{ kg}$
$19\text{ l} - 7\text{ l} =$	$15\text{ kg} - 4\text{ kg} =$	$18\text{ m} - 6\text{ m} =$	$18\text{ kg} - 7\text{ kg}$

Vypočítej.

a) V naší ulici svítilo 16 světel. 4 světla zhasla. Nyní tam svítí \_\_\_\_\_ světel.

b) Lukáš měl 12 kuliček. Hrál s Romanem a 4 kuličky vyhrál.

Lukáš má \_\_\_\_\_ kuliček.

c) Honzík má 6 bonbónů. To je o 3 víc, než kolik má Anička.

Anička má \_\_\_\_\_ bonbóny.

**Pokud bude pokračovat distanční výuka i v dalším týdnu, úkoly je třeba splnit opět do středy: 7.4.2021 a přinést je vypracované do školy.**