

## Matematika 2.třída

Učebnice str. 39, 40

Opakování učiva

**Doplň číselnou řadu:**

. 1 . . . 5 . . 8 . .

0 . . 3 . . 6 . . . .

**Doplň znaménka < , > , =**

1	10	4	10	1	8
3	9	1	6	4	6
0	2	3	1	10	6

1. Nakresli •

<b>8</b>	<b>10</b>	<b>5</b>	<b>9</b>	<b>7</b>
----------	-----------	----------	----------	----------

**Vypočítej:**

$8 + 2 =$

$10 - 1 =$

$4 + 5 =$

$8 - 2 =$

$2 + 7 =$

$10 - 3 =$

$1 + 9 =$

$9 - 2 =$

$0 + 5 =$

$4 - 0 =$

Helenka měla 10 korun, za 3 koruny si koupila lízátko.  
Kolik korun zůstalo Helence?



korun .....

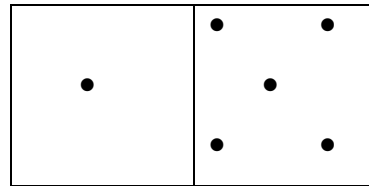
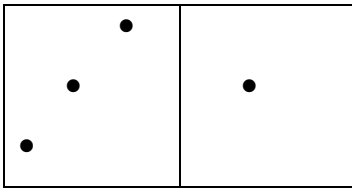
utrátila .....

zůstalo .....

Výpočet: .....

Odpověď: .....

**Zapiš příklady:**




---



---



---



---



---



---



---



---

Všechny příklady s výsledkem **10** vykresli **modře**, s číslem **8 zeleně**:

$10 - 0$

$3 + 5$

$10 - 2$

$7 + 3$

$2 + 8$

$3 + 4$

$5 + 5$

$7 + 1$

**Oprav chybně vypočítané příklady:**

$8 - 2 = 3$

$7 + 0 = 5$

$4 + 3 = 7$

$7 - 1 = 6$

$2 + 2 = 4$

$4 - 2 = 5$

$3 + 2 = 5$

$3 - 2 = 2$

$8 - 1 = 4$

$5 + 1 = 6$

**Vypočítej slovní úlohu:**

Na louce létalo 10 včel. 4 včely odletěly.

Kolik včel létá na louce?


celkem včel .....

odletělo .....

zůstalo .....

Výpočet: .....








Odpověď: .....



**Vypočítej cv. > , < , = na str. 39, pracuj v pracovním listu nebo na papír:**

.....  
.....  
.....  
.....  
.....

**Znázorni a vypočítej:**

	$3 + 4 + 3 =$
	$1 + 6 + 1 =$
	$2 + 6 + 1 =$
	$1 + 3 + 5 =$
	$7 + 1 + 2 =$
	$0 + 2 + 3 =$
	$4 + 5 + 1 =$