




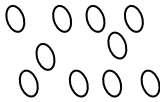
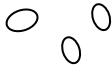
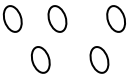
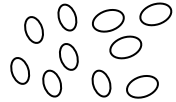


Matematika 2.třída

Učebnice str. 37, 38

Vybarvi čtverečky s deseti zrníčky:

| | | |
|---|---|---|
|  |  |  |
|  |  | |
|  |  | |
| |  |  |



Doplň správná čísla:

$10 > _$

$_6 < _$

$_6 > _$

$6 = _$

$_ > 6$

$10 > _$

$_ < 9$

$4 = _$

$_ < 4$

$_ > 5$

$7 < _$

$_ = 7$

Nakresli správný počet *

| | | | | |
|----------|----------|----------|-----------|----------|
| 8 | 6 | 5 | 10 | 7 |
| | | | | |


Vypočítej cv . – na str. 37, pracuj v pracovním listu nebo na papír:

.....
.....
.....
.....
.....
.....

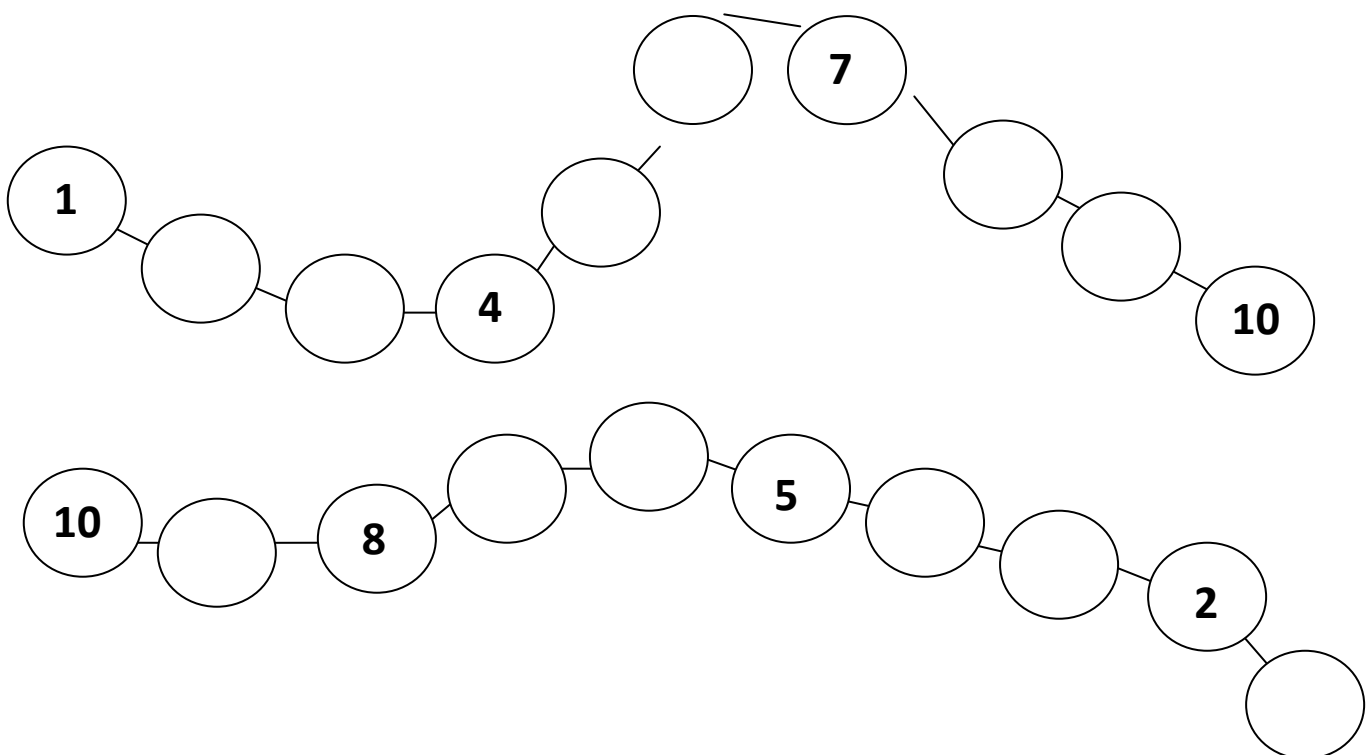
Vybarvi:

žlutě 1. a 4. hvězdičku


červeně 3. a 6. hvězdičku



Doplň číselné řady:



Doplň domečky tak, aby každý součet čísel byl deset.



Vypočítej slovní úlohu:

Zuzanka měla 2 balonky, Kuba měl 8 balonků.

Kolik balonků měli dohromady?

Zuzanka

Kuba

dohromady

Výpočet:

Odpověď:



Oprav chybně vypočítané příklady:

$10 - 2 = 3$

$10 + 0 = 5$

$4 + 4 = 7$

$7 - 1 = 6$

$2 + 2 = 4$

$10 - 2 = 8$

$3 + 2 = 6$

$6 - 2 = 2$

$10 - 1 = 4$

$5 + 1 = 6$

Přiřaď k příkladu správný výsledek:

| | | |
|----------|---|----------|
| $10 - 2$ | 4 | $3 + 1$ |
| $4 + 3$ | 5 | $5 - 0$ |
| $8 - 2$ | 6 | $3 + 3$ |
| $7 - 2$ | 7 | $10 - 6$ |
| $2 + 4$ | 8 | $10 - 2$ |

Vypočítej a vybarvi správnou barvou:

