

ČTENÍ A PSANÍ

Čti nahlas.

Alice má tmavé vlasy.

Máma jí plete copy.

Zuzana nosí culík.

Culík si spíná sponou.

Tereza copy nenosí.

Také nemá culík.

Odpověz na otázky. Odpověď napiš.

Kdo má tmavé vlasy? _____

Komu plete máme copy? _____

Kdo nosí culík? _____

Čím si Zuzana culík spíná? _____

Kdo nenosí copy, ani culík? _____

Věty přepiš.

Alice nosí copy.

Zuzana nosí culík.

Tereza copy nenesí.

Co je to? Správnou odpověď podtrhni.




koza nebo kocour



jaro nebo jahoda



kytara nebo kytky

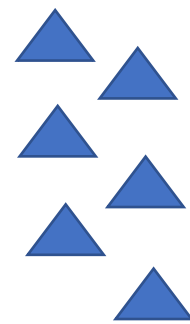
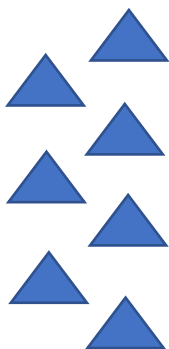




ovce nebo ovoce

















MATEMATIKA

Napiš číselnou řadu od 1 do 20.

Odhadem zkus určit, kde je víc. Dej do kroužku.



Vypočítej.

$3 + 4 =$ <input type="text"/>	$2 + 7 =$ <input type="text"/>
 	 
$5 + 5 =$ <input type="text"/>	$8 + 3 =$ <input type="text"/>
 	 
$4 + 6 =$ <input type="text"/>	$6 + 8 =$ <input type="text"/>
 	 
$7 + 5 =$ <input type="text"/>	$9 + 4 =$ <input type="text"/>
 	 

Počítej s kalkulačkou.

$9 + 5 = \underline{\quad}$

$4 + 8 = \underline{\quad}$

$7 + 6 = \underline{\quad}$

$3 + 9 = \underline{\quad}$

$6 + 6 = \underline{\quad}$

$8 + 4 = \underline{\quad}$

$11 - 6 = \underline{\quad}$

$16 - 7 = \underline{\quad}$

$14 - 5 = \underline{\quad}$

$18 - 9 = \underline{\quad}$

$12 - 4 = \underline{\quad}$

$17 - 8 = \underline{\quad}$

PRVOUKA

Rozstřihni, znovu poskládej a nalep.

