

MATEMATIKA – SPCH1 2. ročník

Úkol č. 1:

Podívej se na videa dostupná z <https://www.matyskova-matematika.cz/matyskova-matematika-4-dil-strana-13/>

Úkol č. 2: Počítej.

$9 + \underline{\quad} + \underline{\quad} = 11$ Nakresli:

$9 + \underline{\quad} = 11$ Nakresli:

$9 + \underline{\quad} + \underline{\quad} = 12$ Nakresli:

$9 + \underline{\quad} = 12$ Nakresli:

Úkol č. 3: Počítej.

$9 + \underline{\quad} + \underline{\quad} = 13$

$9 + \underline{\quad} + \underline{\quad} = 17$

$9 + \underline{\quad} + \underline{\quad} = 15$

$9 + \underline{\quad} = 13$

$9 + \underline{\quad} = 17$

$9 + \underline{\quad} = 15$

$9 + \underline{\quad} + \underline{\quad} = 18$

$9 + \underline{\quad} + \underline{\quad} = 14$

$9 + \underline{\quad} + \underline{\quad} = 16$

$9 + \underline{\quad} = 18$







$9 + \underline{\quad} = 14$

$9 + \underline{\quad} = 16$

Úkol č. 4: GEOMETRIE – Geometrické útvary

Podívej se na video dostupné z <https://www.youtube.com/watch?v=5OyXVpftW8g>

Úkol č. 5: Ke každému geometrickému tělesu napiš správný název.

Nápověda: kužel, jehlan, koule, krychle, kvádr, válec.

Úkol č. 6: V pracovním sešitě, který máš doma, pracuj podle školního rozvrhu.

Úkol č. 7: Kvíz (není hodnocen)

- ✓ Vyplň.
- ✓ Nezapomeň na tlačítko Odeslat.

<https://forms.office.com/Pages/ResponsePage.aspx?id=h37B4yxf00Gje5uAWBxdLvDZ2rWNX3pNpwjCQMUPQbIURERDUTFKOVmzWUpBTTNCR09BUFJNWkUxVi4u>