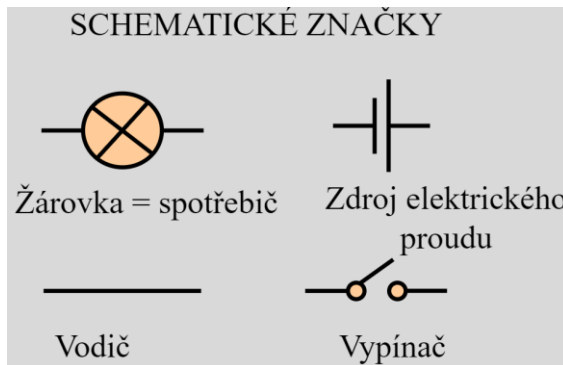


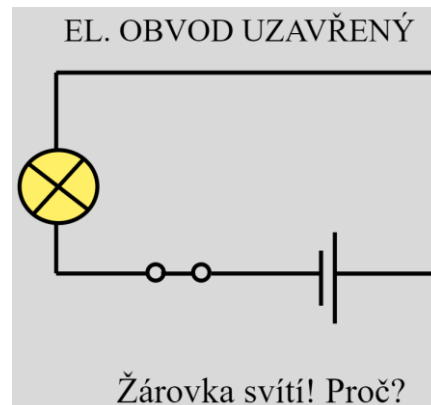
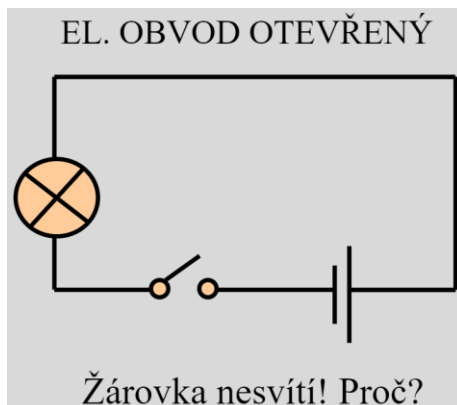
FYZIKA SPCH2 – 8. třída

ELEKTRICKÝ PROUD – Jak znázorňovat jednotlivá zapojení

- Před každým zapojením je výhodné nakreslit si schéma tohoto zapojení. Na schématu ověříme, zda jsou splněny podmínky, které pro zapojení byly dány.
- Prohlédni si schematické značky dostupné z <https://slideplayer.cz/slide/11392367/>



- Schéma zapojení žárovky a vypínače dostupné z <https://slideplayer.cz/slide/11392367/>



Domácí úkoly

Vypracuj písemně a odevzdej nebo vyplň kvíz.

- 1) Nakresli schematickou značku:
 - a) žárovky,
 - b) zdroje elektrického proudu,
 - c) vodiče,
 - d) vypínače.
- 2) Nakresli schéma zapojení žárovky a vypínače.

Kvíz (není hodnocen)

- ✓ Vyplň.
- ✓ Nezapomeň na tlačítko Odeslat.

<https://forms.office.com/Pages/ResponsePage.aspx?id=h37B4yxf00Gje5uAWBxdLvDZ2rWNX3pNpwjCQMUPQblUMUc5V1FZRE4xS1RKWjROOUMxMUtMMzdDUS4u>