

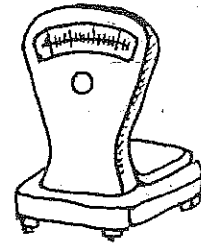

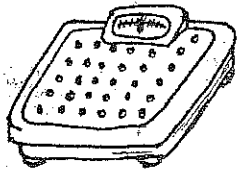
# FYZIKA 6. ROČ. (KOL.)

## HMOTNOST

### 1. Dopln.

Hmotnost látek zjistíme \_\_\_\_\_. K vážení užíváme \_\_\_\_\_.

### 2. Co budeš vážit na uvedených vahách?

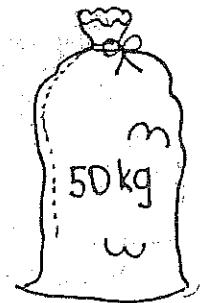

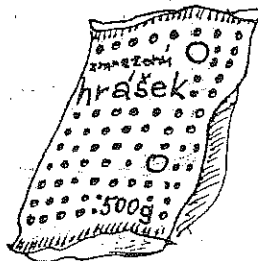



\_\_\_\_\_

\_\_\_\_\_

\_\_\_\_\_

### 3. Napiš, jakou hmotnost mají tyto potraviny.



\_\_\_\_\_

\_\_\_\_\_

\_\_\_\_\_

\_\_\_\_\_

### 4. Dopln.

Potraviny nakupujeme v \_\_\_\_\_ nebo \_\_\_\_\_.

Hmotnost železa a uhlí uvádíme v \_\_\_\_\_.

( tunách, gramech, kilogramech )

### 5. Dopln hmotnost.

Hmotnost sešitu je \_\_\_\_\_ g. Hmotnost čítanky je \_\_\_\_\_ g.

Hmotnost pouzdra je \_\_\_\_\_ g. Hmotnost pastelek je \_\_\_\_\_ g.

Hmotnost mého těla je \_\_\_\_\_ kg.