



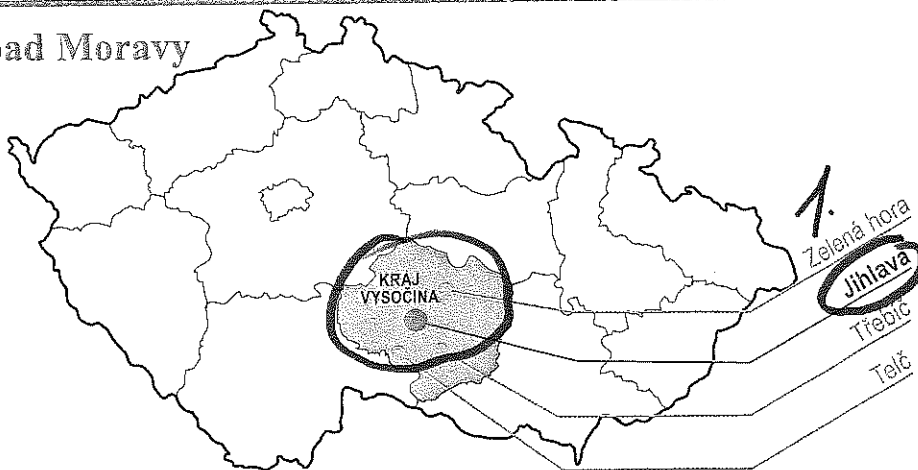
VLASTIVĚDA SPCH1 4. ROČ. (KOL.)

Jihovýchod Čech, jihozápad Moravy

– Kraj Vysočina



poutní kostel sv. Jana Nepomuckého
na Zelené hoře ve Žďáře nad Sázavou,
památká UNESCO



náměstí v Telči s renesančními a barokními měšťanskými
domy, památka UNESCO

② Další zajímavá místa:

Jihlava – labyrint podzemních chodeb, zoo; **Třebíč** – je zde jedna z nejzachovalejších židovských čtvrtí v Evropě. (Spolu s bazilikou sv. Prokopa patří mezi památky UNESCO.)

Jihlava

Jihlava leží v Českomoravské vrchovině a protéká jí řeka Jihlava.

1.

Jihlava je krajským městem Kraje Vysočina. V tomto kraji se nacházejí rozsáhlé hospodářské lesy a jsou zde příznivé podmínky pro pěstování brambor.

② V Jihlavě se ve středověku těžilo a zpracovávalo stříbro. Nacházela se zde také mincovna, kde se vyráběly stříbrné mince.

V podzemí historického centra Jihlavy se nachází labyrint chodeb, které vznikly vzájemným propojením středověkých sklepů (celková délka asi 25 km).

ODPOVĚDI NAPIŠ DO SEŠITU!

1. JAK SE JMENUJE KRAJSKÉ MĚSTO KRAJE VYSOČINA?

2. JAKÁ ZEMĚDĚLSKÁ PLODINA SE NA VYSOČINĚ

PŘEVAŽNĚ PĚSTUJE?

3. NA JAKÉ ÚZEMNÍ CELKY SE ĎELÍ ČESKÁ REPUBLIKA? (JSOU TŘI)



historická hranice Čech, Moravy a Slezska