

Matematika 8. ročník


- Opakování násobení a dělení
- Geometrie – vypočítej obvod a obsah čtverce a obdélníku
- PL - operace s desetinnými čísly – zápis, porovnávání, sčítání, odčítání
- Vyplň Pracovní list a cvičení 1., 4. a 5. vypracuj do sešitu
- Vypočítej a vylušti přísloví
- Sledujte každý den od 9:00 (pondělí – pátek) na ČT 2 program Učí TELKA, určitě Vás tam něco zaujme, co si můžete vyzkoušet(je tam i ROZCVIČKA!!!)

Posílám Vám stránky na online procvičování: <https://skolakov.eu/>,

www.onlinecviceni.cz (matematika 1. stupeň). Stránky znáte, procvičovali jsme z nich ve třídě, najdete si vždy procvičování a příslušné učivo. Můžete procvičovat vše, co už jsme probrali.

GEOMETRIE - vypočítej obvod a obsah čtverce a obdélníku

čtverec ABCD




$$a = 5 \text{ cm}$$

$$o = ?$$

$$S = ?$$

obdélník ABCD



$$a = 7 \text{ dm}$$

$$b = 3 \text{ dm}$$

$$o = ?$$



1. Porovnej čísla

2,13	<input type="text"/>	2,31	5,32	<input type="text"/>	5,33
0,8	<input type="text"/>	0,28	0,04	<input type="text"/>	0,4
1,7	<input type="text"/>	1,6	1,3	<input type="text"/>	1,30
8,36	<input type="text"/>	8,46	42,63	<input type="text"/>	41,63

2. Seřaď vzestupně

0,18; 6,87; 2,6; 8,01; 2,65; 2,06; 0,32; 0,03

3. Ze cvičení 2 vyber největší a nejmenší číslo



4. Porovnej uvedené teploty

38,4 °C		38,1 °C
39,1 °C		39,2 °C
36,4 °C		37,4 °C

38,1 °C		37,6 °C
36,9 °C		36,9 °C
36,9 °C		37,9 °C

36,4 °C		36,4 °C
38,4 °C		38,1 °C
39,7 °C		36,6 °C

5. Sečti desetinná čísla

$5,0 + 0,3 = \underline{\quad}$

$0,10 + 0,08 = \underline{\quad}$

$0,05 + 0,01 = \underline{\quad}$

$1 + 0,5 = \underline{\quad}$

$0,5 + 0,2 = \underline{\quad}$

$0,2 + 0,04 = \underline{\quad}$

$1,7 + 0,3 = \underline{\quad}$

$4,5 + 0,05 = \underline{\quad}$

$1,5 + 0,1 = \underline{\quad}$

$0,52 + 0,21 = \underline{\quad}$

$5 + 0,8 = \underline{\quad}$

$10,5 + 0,03 = \underline{\quad}$

$1,5 + 1,1 = \underline{\quad}$

$1 + 0,85 = \underline{\quad}$

$1,91 + 0,08 = \underline{\quad}$

$0,54 + 0,50 = \underline{\quad}$

6. Vylušti přísloví

$45 + 7 = K$

$28 + 8 = I$

$36 + 6 = O$

$55 + 8 = N$

$75 + 8 = D$

$63 + 8 = U$

$29 + 3 = J$

$88 + 4 = \acute{E}$

$49 + 8 = M$

52	83	42		32	36	63	92	57	71

$23 + 8 = \acute{A}$

$48 + 9 = \acute{A}$

$85 + 7 = M$

$36 + 7 = K$

$56 + 5 = J$

$44 + 7 = O$

$58 + 8 = U$

$29 + 5 = P$

61	31	92	66		43	51	34	57
1)								

$47 + 7 = M$

$55 + 6 = S$

$88 + 4 = O$

$43 + 9 = D$

$77 + 4 = N$

$68 + 3 = \acute{A}$

$33 + 8 = \acute{I}$

61	71	54		52	92		81	41
2)								

$25 + 9 = A$

$56 + 7 = \acute{A}$

$49 + 4 = P$

$85 + 8 = D$

53	34	94	63