


## Matematika 9. ročník

- Opakování násobení a dělení
- Desetinná čísla – zopakuj tyto početní operace v PL
- PL – cvičení 7– písemné dělení, vypočítej a napiš do školního sešitu (pokud jste si sešity nevyzvedli, vypracujte na papír)
- Sledujte každý den od 9:00 (pondělí – pátek) na ČT 2 program Učí TELKA, určitě Vás tam něco zaujme, co si můžete vyzkoušet( je tam i ROZCVIČKA!!!)

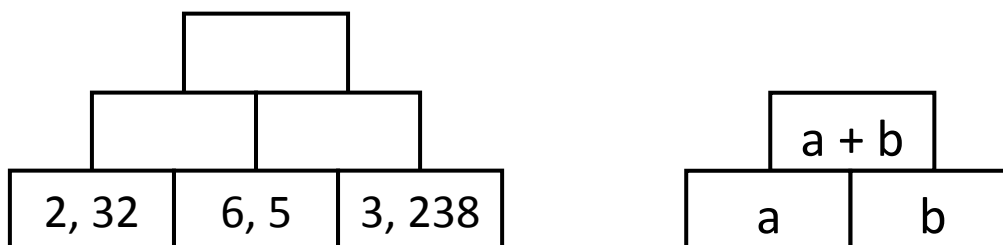
Posílám Vám stránky na online procvičování: <https://skolakov.eu/>, [www.onlinecviceni.cz](http://www.onlinecviceni.cz) (matematika 1. stupeň). Stránky znáte, procvičovali jsme z nich ve třídě, najdete si vždy procvičování a příslušné učivo. Můžete procvičovat vše, co už jsme probrali.

## Desetinná čísla

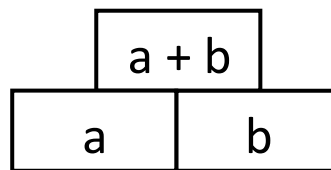
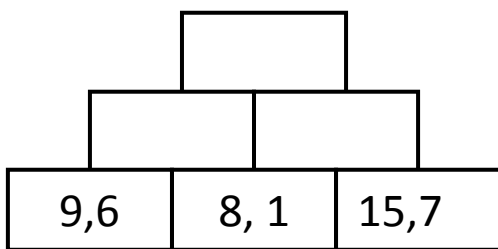
1) Dopln chybějící čísla:



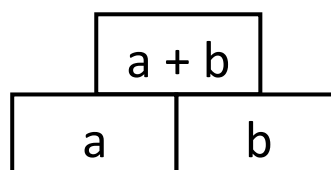
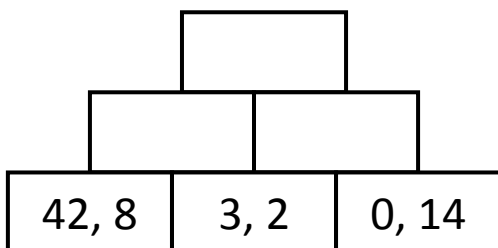
2) Dopln chybějící čísla podle zadaného schématu:



3) Dopln chybějící čísla podle zadaného schématu:



4) Doplň chybějící čísla podle zadaného schématu:



5) Zaokrouhli čísla na:

	<b>Desetiny</b>	<b>Setiny</b>	<b>Tisíciny</b>
114,638			
65,999			
1,8263			
254,3000			
97,999			
56,296			
2,315			

6) Zaokrouhli na dvě desetinná místa:

$5,93123 =$

$1,8915 =$

$11,731 =$

$7,139 =$

$115,157 =$

$11,399 =$

$3,6853 =$

$4,9912 =$

$0,0156 =$

$999,935 =$

**7) Vypočítej příklady a kontrolu proved' násobením**

$15\ 632 : 31 =$ (modrá)	$29\ 363 : 21 =$ (zelená)
$36\ 865 : 36 =$ (žlutá)	$39\ 240 : 83 =$ (růžová)
$58\ 958 : 34 =$ (fialová)	$18\ 961 : 46 =$ (hnědá)

**Zbytek u dělení a výsledek z obrázku je totožný s barvou za podílem – vybarvi obrázek.**

