

Matematika 8. ročník

- Opakování násobení a dělení
- Operace s desetinnými čísly – zápis, porovnávání, sčítání, odčítání
- Vyplň Pracovní listy a cvičení 4. a 7. vypracuj do sešitu
- Sledujte každý den od 9:00 (pondělí – pátek) na ČT 2 program Učí TELKA, určitě Vás tam něco zaujme, co si můžete vyzkoušet(je tam i ROZCVIČKA!!!)

Posílám Vám stránky na online procvičování: <https://skolakov.eu/>,
www.onlinecviceni.cz (matematika 1. stupeň). Stránky znáte, procvičovali jsme z nich ve třídě, najdete si vždy procvičování a příslušné učivo. Můžete procvičovat vše, co už jsme probrali.

1. Zapiš desetinným číslem:

nula celá tři desetiny _____

nula celá dvě stě tisícín _____

jedna celá devatenáct setin _____

nula celá tři sta padesát osm tisícín _____

čtyřicet celých deset setin _____

tři celé pět tisícín _____

2. Znázorni desetinná čísla na číselné ose :

0,6; 1,7; 0,1; 2,5; 1,5; 1,3; 2,8



3. Seřad' čísla od nejmenšího po největší:

2,459 – 2,357 – 2,35 – 2,035 – 2,361 – 2,495

4. Porovnej dvojice čísel:

0,52 0,520

16,32 18,32

8,689 8,686

0,540 0,450

11,6 11,61


83,61 83,16

4,58 4,582

10,12 10,120

9,65 9,562

0,3 0,03



5. Zapiš do tabulky desetinná čísla a přečti:

| Kč | | | hal | | des.číslo |
|----|---|---|-----|---|-----------|
| 1 | 3 | 7 | 5 | 0 | |
| | 2 | 0 | 6 | 0 | |
| 2 | 0 | 0 | 2 | 0 | |
| | | 5 | 8 | 0 | |
| | 5 | 9 | 1 | 0 | |

6. Označ čísla, ve kterých můžeme vynechat nulu, aniž by se změnila velikost čísla:

2,590 32,508 280,011 300,100 242,890 60,010

7. Sečti a odečti z paměti:

a) $4,5 + 0,4 =$

f) $3,9 - 2,5 =$

b) $1,6 + 3,72 =$

g) $7,50 - 4,25 =$

c) $0,008 + 0,012 =$

h) $0,9 - 0,6 =$



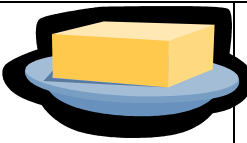
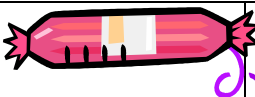






d) $1,1 + 3,3 =$

ch) $12,456 - 10,3 =$

e) $0,45 + 1,32 =$

i) $0,1 - 0,001 =$

8. Nakupování :

| | | | | |
|---|---|---|--|---|
|  |  |  |  |  |
| 1 kus 28,40 Kč | 1 kg 152,60 | 1kus 35,90 Kč | 1 kg 123 Kč | 1 kus 8,90 Kč |
|  |  |  |  |  |
| 1 kg 135,30 | 1 kus 11,70 | 1 kg 28 Kč | 1 kus 13,60 | 1 kus 7 Kč |

Pavλίńka koupila : 1 tašku, 2 okurky, 1 mléko, 2 nanuky, 1 kg ryby, 2 kg banánů, 2 ks bagety, 1 chléb, 2 másla, 3 nanuky.

- 1) Kolić Pavlíńka za nákup zaplatila? Výsledek vhodně zaokrouhli.
- 2) Kolić korun ji vrátila paní prodavačka, jestliže Pavlíńka měla v peněženě 1000 Kč?