

## Matematika 4

učebnice str. 80, 81

- pracuj v pracovním listě nebo napiš do sešitu, či na papír

**1. Řekni si nahlas číselnou řadu násobků čísel 2, 3, 4, 5, 6, 7, 8 opakuj alespoň 3x , pomůže ti zadní strana učebnice matematiky**

**2. Vypočítej:**

$36 : 4 =$	$8 \cdot 0 =$	$6 \cdot 8 =$	$5 \cdot 8 =$	$15 : 3 =$
$5 \cdot 8 =$	$45 : 5 =$	$24 : 8 =$	$2 \cdot 8 =$	$32 : 4 =$
$18 : 3 =$	$25 : 5 =$	$30 : 6 =$	$24 : 6 =$	$5 \cdot 7 =$
$8 \cdot 8 =$	$7 \cdot 8 =$	$3 \cdot 6 =$	$20 : 5 =$	$10 \cdot 7 =$
$7 \cdot 4 =$	$6 \cdot 4 =$	$10 : 5 =$	$5 \cdot 8 =$	$14 : 2 =$

**3. Vypočítej slovní úlohy:**

Petr přečetl 9 knih. Eva přečetla 6 krát více knih. Kolik knih Eva přečetla?

Petr .....

Eva ..... krát více

Eva .....

\_\_\_\_\_

Odpověď:.....



Na parkovišti stálo 7 autobusů a 8 krát více aut. Kolik dopravních prostředků bylo celkem na parkovišti?

autobusů .....

aut ..... krát více

celkem .....

---



Odpověď:.....

**4. Zapiš, nebo namaluj, kterými mincemi zaplatíš:**



19 Kč \_\_\_\_\_

25Kč \_\_\_\_\_



15Kč \_\_\_\_\_

17Kč \_\_\_\_\_


**5. Vypočítej cvičení z učebnice:**

cv. 2 /str. 81

cv. 4 / str. 81


cv. 7 /str. 81

6. Vypočítej do pracovního listu nebo na papír:




:	3
21	
27	
12	

www.lernzettel.ch-grundschule.blogspot.de




:	3
9	
24	
18	

www.lernzettel.ch-grundschule.blogspot.de




:	4
28	
24	
32	

www.lernzettel.ch-grundschule.blogspot.de




:	4
12	
36	
16	

www.lernzettel.ch-grundschule.blogspot.de




:	5
35	
15	
40	

www.lernzettel.ch-grundschule.blogspot.de




:	5
20	
45	
30	

www.lernzettel.ch-grundschule.blogspot.de




:	6
42	
18	
48	

www.lernzettel.ch-grundschule.blogspot.de



:	6
24	
27	
54	

www.lernzettel.ch-grundschule.blogspot.de



:	7
28	
49	
56	

www.lernzettel.ch-grundschule.blogspot.de