

Matematika 3

Pracuj do pracovního listu, na papír nebo do sešitu:

1. Napiš čísla od 5 do 13:

.....
.....

2. Napiš čísla od 20 do 9 :

.....
.....

3. Doplně znaménka $<$, $>$, $=$

16	16	19	15	12	18
20	18	11	16	14	11
10	13	13	11	18	16

4. Vypočítej:



$$10 + 2 =$$

$$20 - 10 =$$

$$12 + 6 =$$

$$15 - 4 =$$

$$15 + 4 =$$

$$14 + 6 =$$

$$18 - 5 =$$

$$19 - 3 =$$

5. Vypočítej do pracovního listu, na papír nebo do sešitu

cv.1/str.34

.....
.....
.....
.....
.....
.....

6.Vypočítej postupným přičítáním nebo odčítáním:

$9 + 3 + 2 =$

$14 - 3 - 2 =$

$8 + 3 + 4 =$

$12 - 4 - 3 =$

$7 + 5 + 1 =$

$13 - 5 - 2 =$

$8 + 4 + 2 =$

$15 - 6 - 3 =$

$9 + 2 + 7 =$




$14 - 5 - 7 =$

7.Vypočítej do pracovního listu, na papír nebo do sešitu

cv.5 /str. 34

.....
.....
.....
.....

7.Pokus se vypočítat:



8. Doplň každého motýlka do 20:

