

## Matematika 3

### 1. Dopln číselnou řadu

. 11 . . . . 15 . . 8

0 . . 3 . . 6 . .

. 17 . . 14 . . . . .

18 . . 15 . . . . .

### 2. Dopln znaménka <, >, =

10 17

14 15

11 19

13 13

11 16

18 15

10 12

13 10

10 16

### 3. Nakresli podle čísla •

18

16

15

12

17

### 4. Vypočítej:

$6 + 9 =$

$10 + 7 =$

$15 - 9 =$

$9 + 3 =$

$15 - 7 =$

$16 - 8 =$

$6 + 6 =$

$16 - 0 =$

$14 + 3 =$

$8 + 5 =$

$17 - 6 =$

$4 + 8 =$

**5. Dopln' prvky do tabulky:**

15	17	12	16	18	11	13	14

**6. Všechny příklady s výsledkem 7 vykresli modře:**

$13 - 6$        $2 + 5$        $16 - 9$        $8 - 1$        $0 + 7$

$15 - 8$        $10 + 7$        $5 - 4$        $14 - 7$        $12 - 5$

**7. Oprav chybně vypočítané příklady:**

$12 - 6 = 6$        $8 + 7 = 15$

$9 + 3 = 11$        $13 - 5 = 6$

$5 + 6 = 11$        $8 + 6 = 14$

$3 + 9 = 14$        $13 - 8 = 5$

$12 - 3 = 9$        $5 + 6 = 12$

**8. Přiřaď k příkladu správný výsledek:**

$12 - 8$     4     $14 - 9$

$13 - 8$     5     $12 - 8$

$15 - 8$     6     $11 - 4$

$12 - 6$     7     $13 - 6$



































































$16 - 8$     8     $11 - 5$

**9. Dočítej:**

$6 + \cdot = 12$        $3 + \cdot = 10$        $8 + \cdot = 17$        $7 + \cdot = 14$

$3 + \cdot = 11$        $9 + \cdot = 17$        $0 + \cdot = 6$        $5 + \cdot = 11$

10. doplň do daného počtu:

7  	9  	4  
10  	6  	7  
8  	3  	9  
10  	8  	6  
7  	9  	10  
6  	4  	5  
8  	7  	8  
9  	5  	10  
3  	8  	6  
9  	10  	9  
5  	8  	7  

V pátek 13. 3. si rodiče žáků 2., 3. a 4.třídy ( až na 2 výjimky ) nevyzvedli sešity a pracovní listy, proto je nutné úkoly vypracovat buď na vytisknuté příložené přípravy, anebo do vlastních sešitů, či volných listů )