






Počítej ve sloupcích. Výsledek vždy zapiš do prázdného rámečku v následujícím příkladu.
Pokud neuděláš chybu, vyjde ti číslo uvedené dole v obrázku.

I.	II.	III.	IV.	V.
30 : 5	72 : 9	56 : 7	54 : 6	45 : 5
<input type="text"/> . 2	<input type="text"/> . 3	<input type="text"/> . 5	<input type="text"/> . 2	<input type="text"/> : 3
<input type="text"/> : 4	<input type="text"/> : 6	<input type="text"/> : 4	<input type="text"/> : 6	7 . <input type="text"/>
18 : <input type="text"/>	8 . <input type="text"/>	3 . <input type="text"/>	27 : <input type="text"/>	(<input type="text"/> +11):8
<input type="text"/> . 6	(<input type="text"/> +10):7	<input type="text"/> : 5	<input type="text"/> . 7	12 : <input type="text"/>
<input type="text"/> : 4	8 . <input type="text"/>	3 . <input type="text"/>	(<input type="text"/> +9) : 9	2 . <input type="text"/>
<input type="text"/> . 7	(<input type="text"/> -3) : 9	<input type="text"/> : 2	2 . <input type="text"/>	<input type="text"/> . 5
<input type="text"/> : 9	4 . <input type="text"/>	63 : <input type="text"/>	<input type="text"/> : 4	<input type="text"/> : 10
8 . <input type="text"/>	<input type="text"/> : 2	3 . <input type="text"/>	7 . <input type="text"/>	4 . <input type="text"/>
(<input type="text"/> -2):6	8 . <input type="text"/>	(<input type="text"/> +60) : 9	(<input type="text"/> -8) : 4	<input type="text"/> : 6
2 . <input type="text"/>	(<input type="text"/> -32):6	36 : <input type="text"/>	6 . <input type="text"/>	14 : <input type="text"/>
<input type="text"/> : 3	2 . <input type="text"/>	<input type="text"/> . 6	<input type="text"/> : 3	<input type="text"/> . 8
5 . <input type="text"/>	<input type="text"/> : 4	<input type="text"/> : 8	10 . <input type="text"/>	(<input type="text"/> -7) : 7
<input type="text"/> : 10	<input type="text"/> . 10	9 . <input type="text"/> +5	(<input type="text"/> -60) : 5	4 . <input type="text"/>
2 . <input type="text"/>	<input type="text"/> : 8	<input type="text"/> : 4	<input type="text"/> : 2	<input type="text"/> -19
 <input type="text"/> 6	 <input type="text"/> 5	 <input type="text"/> 8	 <input type="text"/> 4	 <input type="text"/> 9